












כיתה ו'


כל פריט המופיע כמה פעמים, מייצג את אותו המספר.

- בכל משבצת כתבו את המספר שהפריט מייצג, על-פי הסכום המופיע בסוף השורה או בסוף הטור.


 _____	 _____	 _____	2.9
 _____	 _____	 _____	7.5
 _____	 _____	 _____	8.75
 _____	 _____	 _____	7.5
6.5	9.15	11.25	

_____ כוס של יין - 

_____ הגדה - 

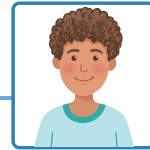
_____ קערת הסדר - 

_____ מצה - 



נעמה עוברת דרך משבצות שבהן **הסימנים** $>$, $<$ ו- $=$ **מתאימים**.


- סמנו את דרכה.
- הקיפו את הפריט שאליו הגיעה.



$0.56 < 0.6$	$4.13 < 4.3$	$3.50 = 3.5$	$1.1 > 1.04$
$4.63 < 4.36$	$5.02 > 5.1$	$8.8 < 8.75$	$0.09 < 0.7$
$0.08 = 0.8$	$0.40 = 0.4$	$2.09 < 2.8$	$0.8 > 0.25$
$5.1 > 5.02$	$10.25 < 10.5$	$2.55 < 2.5$	$0.09 > 0.7$




אפיקומן



פסח של מצות



מחיר חבילת
מצות גדולה 46 ש"ח



מחיר חבילת
מצות קטנה 24 ש"ח

משפחת כהן קנתה אריזות קטנות ואריזות גדולות של מצות לכבוד חג הפסח.
המשפחה שילמה יותר מ-230 ₪ ופחות מ-250 ₪ בעבור כל האריזות.


כמה אריזות קטנות וגדולות קנתה המשפחה?
כתבו 2 אפשרויות שונות.

אפשרות 2

המשפחה קנתה
_____ אריזות קטנות
ו- _____ אריזות גדולות.

אפשרות 1

המשפחה קנתה
_____ אריזות קטנות
ו- _____ אריזות גדולות.



מה נשתנה במספר האגוזים?

ליואב היו אגוזים. הוא הפסיד 13 מהאגוזים במשחק.
25% מהאגוזים שנותרו לו לאחר ההפסד, הוא נתן לאחיו.
בסוף נשארו ליואב 15 אגוזים.



כמה אגוזים היו לו בהתחלה?
ליואב היו בהתחלה _____ אגוזים.

